

REKEN UIT.

$5 \times 2 = 10$

$6 \times 10 = 60$

$10 : 10 = 1$

$5 \times 10 = 50$

$0 \times 2 = 0$

$60 : 10 = 6$

$2 \times 3 = 6$

$1 \times 2 = 2$

$4 \times 10 = 40$

$10 : 2 = 5$

$8 : 2 = 4$

$10 \times 10 = 100$

$4 \times 2 = 8$

$10 \times 4 = 40$

$10 \times 3 = 30$



$2 \times 1 = 2$

$90 : 10 = 9$

$2 \times 5 = 10$

$6 : 2 = 3$

$10 \times 8 = 80$

$0 \times 10 = 0$

$8 \times 2 = 16$

$1 \times 10 = 10$

$14 : 2 = 7$

$10 \times 7 = 70$

$6 \times 2 = 12$

$2 \times 9 = 18$

$9 \times 2 = 18$

$9 \times 10 = 90$

$16 : 2 = 8$

$7 \times 10 = 70$

$4 : 2 = 2$

$50 : 10 = 5$

$3 \times 10 = 30$

$30 : 10 = 3$

$2 \times 10 = 20$

$7 \times 2 = 14$

$2 \times 6 = 12$

$10 \times 2 = 20$

$2 \times 0 = 0$

$70 : 10 = 7$

$8 \times 10 = 80$

$18 : 2 = 9$



$2 \times 4 = 8$

$7 \times 10 = 70$

$12 : 2 = 6$

$10 \times 5 = 50$

$50 : 10 = 5$

$8 \times 10 = 80$

$6 \times 2 = 12$

$2 \times 9 = 18$

$2 \times 3 = 6$

$20 : 2 = 10$

$10 \times 7 = 70$

$16 : 2 = 8$

$20 : 10 = 2$

$100 : 10 = 10$

$10 \times 7 = 70$

$8 \times 2 = 16$

$8 : 2 = 4$

$80 : 10 = 8$



$40 : 10 = 4$

$10 \times 2 = 20$

$5 \times 10 = 50$

$3 \times 2 = 6$

$2 : 2 = 1$

$4 \times 10 = 40$

$10 \times 6 = 60$

$2 \times 8 = 16$

12
? 4



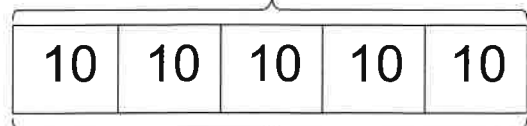
ALLES AAN 10 EURO



Op de bovenste plank zijn er 5 desserts.
Elk dessert kost 10 euro. Hoeveel kosten ze samen?

50

$$5 \times 10 = 50$$




De desserts kosten 50 euro.

5 desserts

Lou kiest 3 taarten voor zijn verjaardag. Duid ze aan met een kruisje. Hoeveel moet mama betalen?

30

$$3 \times 10 = 30$$



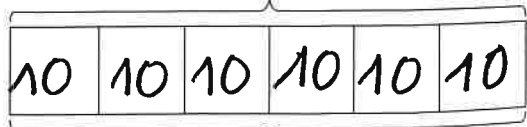
Mama betaalt 30 euro.

3 desserts

Arthur gaat met 60 euro naar de bakker. Hoeveel desserts kan hij kopen?

60

$$60 : 10 = 6$$



Arthur kan 6 desserts kopen.

6 desserts

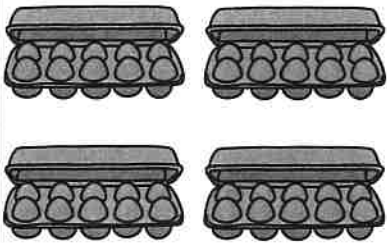
KIJK EN VUL IN.

12

?

4

Er zijn 4 kippen in het hok. Ze leggen elk 10 eieren per week. Hoeveel eieren zijn er aan het eind van de week?



40



$$4 \times 10 = 40$$

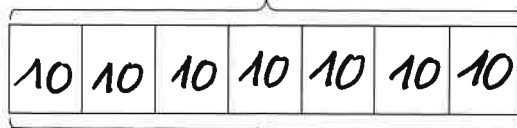
4 groepjes

Er zijn 40 eieren.

In de klas zijn 7 kinderen. Iedereen krijgt een potje met daarin 10 kleurpotloden. Hoeveel kleurpotloden hebben ze samen?



70




$$7 \times 10 = 70$$

7 groepjes

Er zijn 70 potloden.

Er ligt een hoop van 50 stenen klaar die in de trein moeten worden geladen. In iedere wagon mogen 10 stenen. Hoeveel wagons zijn er nodig?



50




$$50 : 10 = 5$$

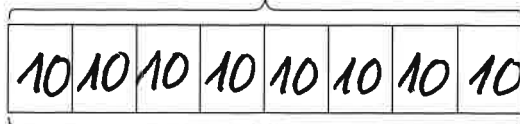
5 groepjes

Er zijn 5 wagons.

Axl heeft 80 euro gespaard. Hij wil graag verschillende sets van lego kopen. Alle sets kosten evenveel en 1 set kost 10 euro. Hoeveel sets kan hij kopen?



80



$$80 : 10 = 8$$

8 groepjes

Hij kan 8 sets kopen.

WELK GETAL VLIEGT WEG UIT DE REKENZIN? OMCIRKEL.



9 3 6

$10 \times \square = 30$

10 9 5

$6 \times \square = 60$

2 4 8

$80 : \square = 10$

7 8 10

$100 : \square = 10$

10 1 0

$1 \times \square = 10$

7 1 4

$10 \times \square = 70$

7 10 4

$20 : \square = 2$

5 8 6

$10 \times \square = 80$

7 1 4

$40 : \square = 10$

7 1 4

$10 \times \square = 70$

8 5 9

$10 \times \square = 50$

7 5 9

$10 \times \square = 90$

VUL DE GETALLEN IN ZO DAT DE BEWERKINGEN KLOPPEN.

